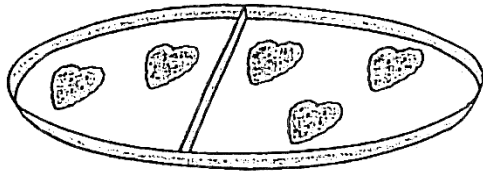
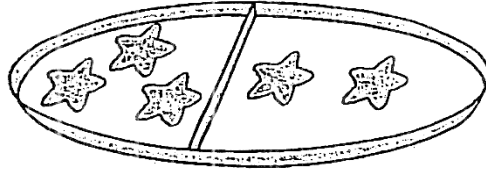


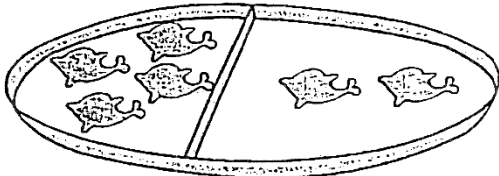
(一)請數算盤子內每格曲奇餅的數量，並將答案在橫線上。



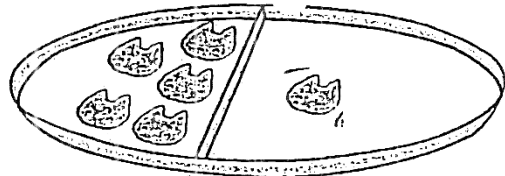
2 和 ____ 是 ____



____ 和 ____ 是 5




____ 和 ____ 是 6




____ 和 1 是 ____

(二)請比較 A、B、C 三組各得的水果數量，然後回答下列問題。

A 組	B 組	C 組

1. 在三組中，那一組的  最多？ _____ 組

2. 在三組中，那一組的  最少？ _____ 組

3. 在三組中，那一組的水果最多？ _____ 組